

வினாத்தாள் - 2021

தரம் 05

Selvasanthi Publication

மாணவர்களைப் பாடசாலைக்குத் தேர்ந்தெடுப்பதற்கும் மாணவர்களுக்கு உதவிப்பணம் வழங்குவதற்கும் தரம் ஐந்து மாணவர்களுக்கு நடாத்தப்படும் பரீட்சைக்கான முன்னோடி வினாத்தாள்.

முன்னோடியப் பரீட்சை வினாத்தாள் - I

நேரம் - 1 மணித்தியாலம்

07

ஆசிரியர்கள்
திரு. செ. திலக்
திரு. செ. வினோத்குமார்

கூட்டெண் :

பரீட்சைக்குத் தோற்றும் உமக்குரிய அறிவுறுத்தல்கள்

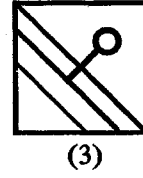
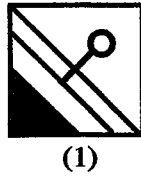
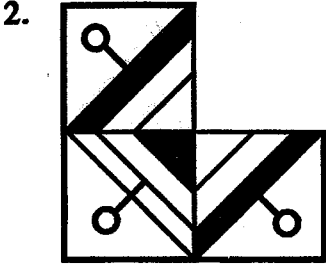

- உமது கூட்டெண்ணை மேலுள்ள புள்ளிக்கோட்டின் மீது எழுதுக.
- முன்றாவது பக்கத்தில் குறித்த இடத்திலும் உமது கூட்டெண்ணை எழுதுக.
- இவ்வினாத்தாளில் 40 வினாத் தொகுதிகள் உள்ளன.
- அனைத்து வினாக்களிற்கும் உரிய சரியான விடையின் கீழ்க் கோடிடுக.
- செய்கை வேலைக்காக ஒரு தாள் வழங்கப்படும்.

விடைத்தாள் பரீட்சகர்களுக்கு மாத்திரம்

| பக்க இலக்கம் | புள்ளி |
|------------------------|--------|
| 02 | |
| 03 | |
| 04 | |
| 05 | |
| 06 | |
| 07 | |
| 08 | |
| மொத்த புள்ளிகள் | |
| இலக்கத்தில் | |
| சொற்களில் | |

| முதலாவது பரீட்சகர் | ஒப்பம் |
|---|--------|
| புள்ளி வழங்கும் விதிமுறைக்கேற்ப விடைத்தாள் மதிப்பீடு செய்யப்பட்டதென சான்றுப் படுத்துகின்றேன். | |
| இரண்டாவது பரீட்சகர் | |
| முதலாவது பரீட்சகரின் மதிப்பீடு சரியானதெனச் சான்று பகிர்கின்றேன் | |
| கணித பரீட்சகர் | |
| மதிப்பீடு வழங்கப்பட்ட புள்ளிகள் மற்றும் இறுதிப் புள்ளி சரியானதென தெரிவிக்கின்றேன். | |
| பிரதம பரீட்சகர் | |
| மேற்பார்வை செய்வதற்கு இணங்க இறுதிப் புள்ளி சரியானதென தெரிவிக்கின்றேன். | |

- 1 ஆம் 2 ஆம் வினாக்களில் முதலில் தரப்பட்டுள்ள உருவைப் பூரணப்படுத்துவதற்குப் பொருத்தமான மீதிய் பகுதியைத் தெரிவு செய்க.



- தரப்பட்ட பாடலை வாசித்து 3 ஆம் 4 ஆம் வினாக்களுக்குரிய விடையைத் தெரிக.

தலைவாரிப் பூச்சுடி உன்னைப் பாட

சாலைக்குப் போ என்று சொன்னார் உன் அன்னை

சிலை போல ஏனங்கு நின்றாய்? - நீ


சிந்தாத கண்ணீரை ஏன் சிந்துகிறாய்?

3. இப் பாடல் யாரை விழித்துப் பாடப்பட்டது?

- (1) சிறு ஆண் பிள்ளையை விழித்து
(2) சிறு பெண் பிள்ளையை விழித்து
(3) சிறு ஆண், பெண் பிள்ளைகளை விழித்து

4. பாடசாலைக்குச் செல்ல விருப்பமில்லாத பிள்ளை செய்த செயல்களில் ஒன்றல்லாதது எது?

- (1) அளவுக்கதிகமான கண்ணீரைச் சிந்தி அழுதல்.
(2) அசையாது ஓரிடத்தில் சிலைபோல் நின்றல்.
(3) வீட்டைச் சுற்றி சத்தமிட்டு ஓடுதல்.



இவ்வுருவை வரைவதற்குப் பயன்படுத்திய நேர்கோடுகளின் எண்ணிக்கை யாது?

(1) 8

2) 9

3) 10

- தரப்பட்ட கணிதச் செய்கையை அவதானித்து 6 ஆம் 7 ஆம் வினாக்களுக்குரிய விடையைத் தெரிக.

$$\begin{array}{r}
 \triangle \quad \square \quad \bullet \\
 + \quad \square \quad \square \quad \bullet \\
 \hline
 1 \quad 5 \quad 9 \quad 4 \\
 \hline
 \end{array}$$

6) \triangle இன் பெறுமானம் யாது?

- 1) 5 2) 6 3) 4

7. உருக்களுக்கான பெறுமதி அடிப்படையில் கூடியதிலிருந்து குறைந்தது வரை செல்லும் உருக்களைக் கொண்ட தொகுதி



8. முட்கடிகாரம் ஒன்றில் மணித்தியால முள்ளும் நிமிட முள்ளும் செங்கோணத்திலும் பெரிய கோணத்தைக் காட்டும் இரு நேரங்களும் எவை?

- (1) 3.00 உம், 5.20 உம்
 (2) 6.15 உம், 10.10 உம்
 (3) 2.00 உம், 7.00 உம்

9. போட்டிப் பரீட்சை ஒன்றிற்கு 50 வினாக்கள் வழங்கப்பட்டன. சரியெடுக்கும் ஒவ்வொரு வினாவிற்கும் 2 புள்ளிகளும் பிழையெடுக்கும் ஒவ்வொரு வினாவுக்கும் 1 புள்ளி வீதமும் கழிக்கப்படும் எனவும் குறிப்பிடப்பட்டிருந்தது. ஒருவர் 41 சரிகள் எடுத்தார். எனின் அவர் பெற்றபுள்ளி யாது?

- (1) 82 புள்ளிகள் (2) 77 புள்ளிகள் (3) 73 புள்ளிகள்

10.

| | | |
|----|---|----|
| A | | 9 |
| 36 | 1 | 4 |
| | B | 81 |

இவ் எண்கோலத்தில் A, B ஆகிய இடங்களில் வரவேண்டிய எண்கள் எவை?

- (1) A - 16, B - 81
 (2) A - 25, B - 49
 (3) A - 25, B - 64

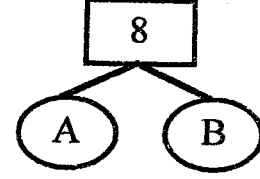
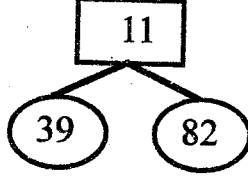
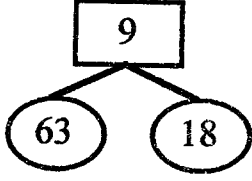
11. 600 வேலையாட்கள் கொண்ட ஆடைத்தொழிற்சாலை ஒன்றிற்கு 54 மேற்பார்வையாளர்கள் தேவைப்படுகின்றனர். எனின் 1100 வேலையாட்கள் உள்ள ஆடைத்தொழிற்சாலைக்குத் தேவைப்படும் மேற்பார்வையாளர்களின் எண்ணிக்கை யாது?

- (1) 90 மேற்பார்வையாளர்கள்
 (2) 108 மேற்பார்வையாளர்கள்
 (3) 99 மேற்பார்வையாளர்கள்

12. உட்பக்கம் தெரியாத போத்தல் ஒன்றில் இருந்த பந்துகளில் இரண்டைத் தவிர ஏனையவை மஞ்சள் நிறப்பந்துகளாகும். இரண்டைத் தவிர ஏனையவை வெள்ளை நிறப்பந்துகளாகும். இரண்டைத் தவிர ஏனையவை சிவப்பு நிறப்பந்துகளாகும். எனின் அப்போத்தலில் உள்ள பந்துகளின் குறைந்தபட்ச எண்ணிக்கை யாது?

- (1) 4 பந்துகள் (2) 6 பந்துகள் (3) 3 பந்துகள்

13. A, B ஆகிய இடங்களில் வரவேண்டிய எண்கள் எவை?



- (1) A - 29 B - 45 (2) A - 44 B - 17 (3) A - 39 B - 25

14. ஏனைய மாவட்டங்களிலிருந்து கொழும்பு நகரைச் சென்றடையும் பேருந்துகளின் எண்ணிக்கையானது ஒவ்வொரு மணி நேரமுடிவிலும் மூன்று மடங்காகிக் கொண்டே இருக்கும். முதல் மணி நேர முடிவில் இரு பேருந்துகள் வந்து தரித்து நின்றன. எனின் 5 மணி நேர முடிவில் எல்லாமாக எத்தனை பேருந்துகள் தரித்து நிற்கும்?

- (1) 121 பேருந்துகள் (2) 242 பேருந்துகள் (3) 188 பேருந்துகள்

15. பூஜா 10 நிமிடங்களில் 7 மெழுகுவர்த்திகள் செய்வாள். மயூரி 1/2 மணித்தியாலத்தில் 18 மெழுகுவர்த்திகள் செய்வாள். விமலா 15 நிமிடங்களில் 10 மெழுகுவர்த்திகள் செய்வாள். இவர்களில் மிக வேகமாக மெழுகுவர்த்திகள் செய்யக் கூடியவர் யார்?

- (1) பூஜா (2) மயூரி (3) விமலா

● வெற்றிடங்களுக்குப் பொருத்தமான விடையைத் தெரிவு செய்க.

16. ஜனவரி, மார்ச், மே, யூலை,,

- (1) செப்ரெம்பர், நவம்பர் (2) செப்ரெம்பர், டிசம்பர் (3) ஓகஸ்ட், நவம்பர்

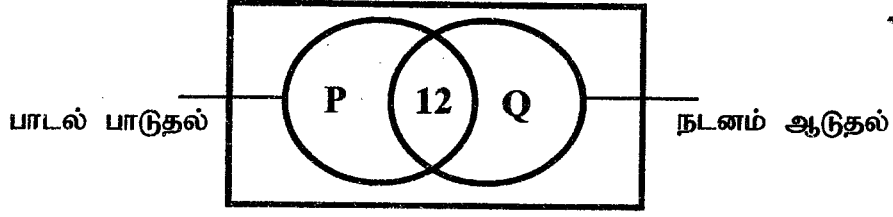
17. பாடசாலை, கோட்டம், வலயம்,,

- (1) மாகாணம், தேசியம் (2) மாவட்டம், மாகாணம் (3) மாகாணம், மாவட்டம்

18. தரப்பட்ட மூன்று ஆங்கில எழுத்துத் தொகுதியில் ஓர் எழுத்துத் தொகுதி ஏனைய இரண்டு தொகுதிகளிலும் இருந்து வேறுபடுகின்றது. அதனைத் தெரிக.

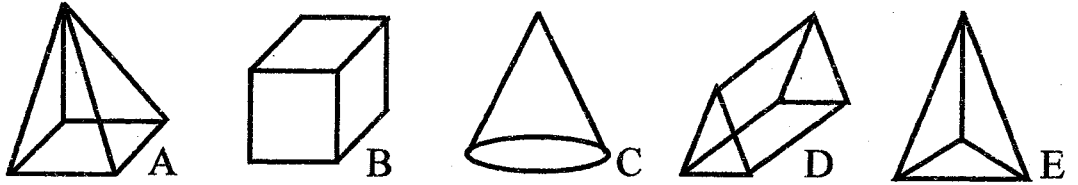
- (1) EHI (2) FZO (3) LVT

19. தரம் 5 வகுப்பில் 38 மாணவர்கள் உள்ளனர். அவர்களில் 27 மாணவர்கள் நன்றாகப் பாடல் பாடுவார்கள். 23 மாணவர்கள் நன்றாக நடனம் ஆடுவார்கள். சிலர் இரண்டிலும் திறமை கொண்டிருந்தனர். அதனை உரு காட்டுகின்றது.



P, Q ஆகிய இடங்களில் வரவேண்டிய விடைகளை தெரிக.

- (1) P - 11, Q - 15 (2) P - 15, Q - 11 (3) P - 15, Q - 9
20. செவ்வக வடிவக் காணி ஒன்றின் நீளம் 60m ஆகும். அதன் அகலம் நீளத்தின் $\frac{1}{3}$ பங்காகும். அக்காணியைச்சுற்றி 5m இடைவெளிக்கு ஒருதூண் வீதம் நடப்பட்ட வேண்டும். எனின் தேவையான தூண்களின் எண்ணிக்கை யாது?
- (1) 32 (2) 36 (3) 28
21. தரப்பட்ட திண்மவருக்களின் உச்சிகளின் எண்ணிக்கை குறைந்ததிலிருந்து கூடியது வரை அதிரித்துச் செல்லும் விடைத்தொகுதி



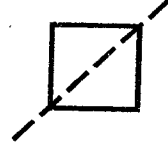
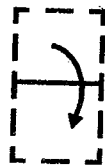
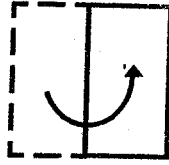

- (1) CAEDB (2) CEABD (3) CEADB
22. மூவிலக்க எண்ணின் இலக்கங்களின் கூட்டுத்தொகை 10 ஆகும். நடுவில் உள்ள இலக்கம் மற்றய இரு இலக்கங்களின் கூட்டுத்தொகைக்குச் சமமாகும். இலக்கங்களைத் திருப்பி எழுதினால் 99 கூடுகிறது. எனின் அவ் எண் யாது?
- (1) 253 (2) 352 (3) 252
23. இவ்வருடம் 29 நாட்களைக் கொண்ட மாதங்களின் எண்ணிக்கை யாது?
- (1) 12 (2) 11 (3) 1

24. வெற்றிடங்களுக்குப் பொருத்தமான விடையைத் தெரிவு செய்க.



- (1) 5 3 1 - 6 4 2 (2) 6 4 2 - 5 3 1 (3) 4 5 6 - 3 5 7

25. சதுரவடிவக் கடதாசி மட்டை ஒன்று படத்தில் காட்டப்பட்டுள்ளவாறு மடித்து வெட்டும் போது கிடைப்பது



- (1) ஆறு முக்கோணிகள்
- (2) ஒரு சதுரம், நான்கு முக்கோணிகள்
- (3) இரண்டு சதுரங்கள், மூன்று முக்கோணிகள்




26. இரண்டு பெரிய போத்தல்களில் ஒன்றில் 892 மாபிள்களும் மற்றைய போத்தலில் 746 மாபிள்களும் இருந்தன. இரு போத்தல்களிலும் சமமான எண்ணிக்கையில் மாபிள்கள் இருக்க வேண்டும். எனின் கூடிய போத்தலில் இருந்து குறைந்த போத்தலில் எத்தனை மாபிள்கள் இட வேண்டும்?

- (1) 146
- (2) 73
- (3) 112

27. 'தொண்ணூற்றோராயிரத்து எழுநூற்று இருபத்தெட்டு' எனும் எண்ணை இலக்கத்தில் பின்னாலிருந்து எழுதும் போது வரும் எண் யாது?

- (1) எண்பத்திரண்டாயிரத்து எழுநூற்றுப் பத்தொன்பது
- (2) எண்பத்திரண்டாயிரத்து நூற்று எழுபத்தொன்பது
- (3) இருபத்தெட்டாயிரத்து எழுநூற்றுப் பத்தொன்பது

ஒருவரால் அனுப்பப்பட்ட கடித உறை ஒன்று தரப்பட்டுள்ளது. அதனை அவதானித்து 28, 29 ஆகிய வினாக்களுக்குரிய விடையைத் தெரிக.

| | | |
|---|---|--|
|  |  |  |
| திரு. விமலன் 1 ^{ம்} குறுக்குத்தெரு, பலாலி வீதி, யாழ்ப்பாணம். | திரு. ராமசாமி 125, ஓடக்கரை வீதி, களுவாஞ்சிக்குடி, மட்டக்களப்பு. | |

28. கடித உறையில் தரப்பட்ட முத்திரையின் பெறுமதியின் அடிப்படையில்

- (1) வியாபாரத் தபால் ஆகும்.
- (2) உள்நாட்டுப் பதிவுத் தபால் ஆகும்.
- (3) உள்நாட்டு விரைவுத் தபால் ஆகும்.

29. இங்கு குறிப்பிடப்பட்டிருக்கும் திரு. விமலன் என்பவர்

- (1) கடிதத்தை அனுப்புபவர்
- (2) கடிதத்தைப் பெறுபவர்
- (3) கடிதத்தை விநியோகிப்பவர்


30.



உண்மையில் இக்கடிகாரம் 15 நிமிடங்கள் முந்தி ஓடுகின்றது. ஒருவர் இக் கடிகாரம் 15 நிமிடங்கள் பிந்தி ஓடுவதாக நினைத்து சீர்செய்தார். எனின் சீர்செய்த பின் உள்ள நேரத்திற்கும் உண்மையான நேரத்திற்கும் இடையிலான வித்தியாசம் யாது?

- (1) 15 நிமிடங்கள் (2) 25 நிமிடங்கள் (3) 30 நிமிடங்கள்

31.



அருகே தரப்பட்டுள்ள பெரிய சதுரமுகிக் குற்றியை கோடுகள் வழியே எத்தனை தடவைகள் வெட்டும் போது 27 சிறிய சதுரமுகிக் குற்றிகள் பெறப்படும்

- (1) 26 (2) 8 (3) 6

32. சதுரம் ஒன்றிற்கு இருப்பதும் செவ்வகம் ஒன்றிற்கு இல்லாததுமான அம்சத்தைக் காட்டுவது

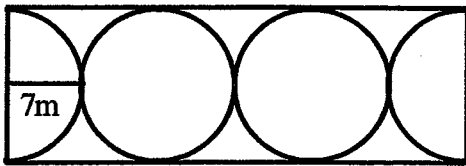
- (1) நான்கு செங்கோணங்களைக் கொண்டிருத்தல்.
(2) நான்கு சமச்சீர் அச்சுக்களைக் கொண்டிருத்தல்
(3) நான்கு பக்கங்களைக் கொண்டிருத்தல்.

33. கவிதை ஒன்றின் நான்கு வரிகள் ஒழுங்கின்றி எழுதப்பட்டுள்ளன. அவற்றைச் சரியாக ஒழுங்குபடுத்தினால் கிடைக்கும் விடை யாது?

- P - தோழர்களுடன் கரங்கோர்த்து
Q - பாடம் பயின்று உயர்ந்திடுவோம்
R - தோள்களில் புத்தகப்பை சுமந்து
S - பள்ளிக் கூடம் சென்றிடுவோம்

- (1) R P S Q (2) R S Q P (3) P R Q S

34.



ஒரேயளவான மூன்று வட்டங்கள் ஒன்றோடு ஒன்று இணைக்கப்பட்டு அதில் ஓர் அளவும் தரப்பட்டுள்ளது. இதனை அவதானித்து செவ்வகத்தின் சுற்றளவைக் காண்க?

- (1) 120 சென்ரிமீற்றர் (2) 98 சென்ரிமீற்றர் (3) 112 சென்ரிமீற்றர்

35. கீழே தரப்பட்ட சொற்கள் எவ்வகையில் ஒற்றுமைப்படுகின்றன?

அமெரிக்கா, ஐரோப்பா, ஆசியா, ஆபிரிக்கா, அவுஸ்ரேலியா, அந்தாட்டிக்கா

- (1) நாடுகள் (2) கண்டங்கள் (3) சமுத்திரங்கள்

36. இரண்டு புத்தகங்களும் ஒரு பயிற்சிக் கொப்பியும் ரூபாய் 262.00 ற்கு வாங்க முடியும். எனின் 8 புத்தகங்களும் 4 பயிற்சிக் கொப்பிகளும் வாங்குவதற்குத் தேவையான பணத்தொகை யாது?

- (1) ரூபாய் 1048.00 (2) ரூபாய் 524.00 (3) ரூபாய் 1162.00

37.

| | | |
|----|---|----|
| 12 | | 30 |
| | 6 | |
| 18 | | 24 |

கட்டத்திலுள்ள எண்கள்

- (1) 3 இனதும் 4 இனதும் பெருக்கங்களாகும்.
(2) 2 இனதும் 4 இனதும் பெருக்கங்களாகும்.
(3) 2 இனதும் 3 இனதும் பெருக்கங்களாகும்.

38. ஒரு கிராமத்தில் சந்தை அமைந்திருப்பது வைத்தியசாலைக்கு வடக்கிலாகும் வைத்தியசாலை இருப்பது கோயிலுக்கு வடக்கிலாகும். இதன்படி கோயில் இருப்பது சந்தைக்கு என்ன திசையிலாகும்?

- (1) கிழக்கு (2) தெற்கு (3) வடக்கு

39. ஒன்று தொடக்கம் இருபது வரையுள்ள எண்ணும் எண்களில் உள்ள இரட்டை எண்களின் கூட்டுத்தொகை யாது?

- (1) 110 (2) 55 (3) 100

40. தந்தை ஒருவர் ரூபாய் 430.00 இற்கு மாம்பழங்கள், கொய்யாப்பழங்கள் சிலவற்றை வாங்கினார். மாம்பழம் ஒன்று ரூபாய் 50.00 இற்கும் கொய்யாப்பழம் ஒன்று ரூபாய் 20.00 இற்கும் வாங்கி இருந்தால் அவர் எத்தனை மாம்பழங்கள் வாங்கியிருப்பார்?

- (1) 6 மாம்பழங்கள் (2) 8 மாம்பழங்கள் (3) 7 மாம்பழங்கள்



மாணவர்களைப் பாடசாலைக்குத் தேர்ந்தெடுப்பதற்கும் மாணவர்களுக்கு உதவிப்பணம் வழங்குவதற்கும் தரம் ஐந்து மாணவர்களுக்கு நடத்தப்படும் பரீட்சைக்கான முன்னோடி வினாத்தாள்.

முன்னோடிப் பரீட்சை வினாத்தாள் - II

நேரம் - 1 மணி 15 நிமிடங்கள்

(முதிய பாடத்திட்டம்)

ஆசிரியர்கள்
திரு. செ. திலக்
திரு. செ. வினோத்துமார்

சுட்டெண் :



பரீட்சைக்குத் தோற்றும் உமக்குரிய அறிவுறுத்தல்கள்

- உமது சுட்டெண்ணை மேலுள்ள புள்ளிக்கோட்டின் மீது எழுதுக.
- முன்றாவது பக்கத்தில் குறித்த இடத்திலும் உமது சுட்டெண்ணை எழுதுக.
- இவ்வினாத்தாளில் 60 வினாத் தொகுதிகள் உள்ளன.
- விடையின் கீழ்க் கோடிடுமாறு கேட்கப்பட்டிருக்கும் போது கோட்டினை மாத்திரம் இடுக.
- விடைகள் எழுதப்பட வேண்டிய வினாக்களின் விடைகளைப் புள்ளிக்கோட்டில் எழுதுக.
- நான்கு விடைகள் தரப்பட்டுள்ள வினாக்களில் சரியான விடையைத் தெரிவு செய்து கோடிடுக.
- செய்கை வேலைக்காக ஒரு தாள் வழங்கப்படும்.

விடைத்தாள் பரீட்சகர்களுக்கு மாத்திரம்

| பக்க இலக்கம் | புள்ளி | முதலாவது பரீட்சகர் | ஒப்பம் |
|-----------------|--------|---|--------|
| 02 | | <p>புள்ளி வழங்கும் விதிமுறைக்கேற்ப விடைத்தாள் மதிப்பீடு செய்யப்பட்டதென சான்றுப் படுத்துகின்றேன்.</p> <p style="text-align: center;">இரண்டாவது பரீட்சகர்</p> <p>முதலாவது பரீட்சலனையின் மதிப்பீடு சரியானதெனச் சான்று பகிற்கின்றேன்</p> <p style="text-align: center;">கணித பரீட்சகர்</p> <p>மதிப்பீடு வழங்கப்பட்ட புள்ளிகள் மற்றும் இறுதிப் புள்ளி சரியானதென தெரிவிக்கின்றேன்.</p> <p style="text-align: center;">பிரதம பரீட்சகர்</p> <p>மேற்பார்வை செய்வதற்கு இணங்க இறுதிப் புள்ளி சரியானதென தெரிவிக்கின்றேன்.</p> | |
| 03 | | | |
| 04 | | | |
| 05 | | | |
| 06 | | | |
| 07 | | | |
| 08 | | | |
| மொத்த புள்ளிகள் | | | |
| இலக்கத்தில் | | | |
| சொற்களில் | | | |

01. தரப்பட்ட பந்தியை நன்றாக வாசிக்குக.

கடிகாரப் பறவைகளான சேவல்களும் கரைந்து சத்தமிடும் காகங்களும் விடியலை அறிவித்து, கதிரவனை வரவேற்கின்றன. ஆலயங்களின் காண்டாமணி ஓசை காதில் கணீரென ஒலிக்கக் கூட்டங்கூட்டமாகப் பறந்து திரியும் பட்சிகளின் இனிய கானம் சூழலை இனிமையாக்குகின்றது.

● **பந்தியை மாத்திரம் துணையாகக் கொண்டு விடையளிக்க.**

- (i) சூழலை இனிமையாக்குவது எது?
- (ii) கடிகாரப் பறவைகள் எவை?
- (iii) 'பறவைகளின்' என்பதன் ஒத்த சொல் யாது?
- (iv) பந்தி எப்பொழுதினை உணர்த்துகின்றது?
- (v) நிகழ்கால பன்மை வினைச்சொல் எது?
- (vi) பெயரடைமொழிச் சொல்லை எழுதுக.
- (vii) அடுக்குமொழிச் சொல்லை எழுதுக.

02. பின்வரும் கூற்றுக்கள் சரியாயின் 'சரி' எனவும் பிழையாயின் 'பிழை' எனவும் எழுதுக.

- (i) 'வைத்தியர்கள்' உயர்திணை ஒருமைப் பெயர்ச்சொல்லாகும். ()
- (ii) 'கடிகாரம்' அ.றிணை ஒருமைப் பெயர்ச்சொல்லாகும். ()
- (iii) மான் கூட்டம் புல்வெளியில் நின்றன. ()

03. தரப்பட்ட சொல்லுக்குரிய கூட்டத்தைக் குறிக்கும் சொல்லைத் தெரிந்து கோடிடுக.

- (i) சனம் - (1) குழாம் (2) திரள் (3) படை
- (ii) மான் - (1) கூட்டம் (2) மந்தை (3) படை

04. வெற்றிடங்களுக்குப் பொருத்தமான சொற்களை இட்டுத் திருக்குறளைப் பூர்த்தி செய்க.

ஒறுத்தார்க்கு ஒருநாள் இன்பம்

பொன்றும் புகழ்

05. தரப்பட்ட வாக்கியங்களில் வெற்றிடங்களுக்குப் பொருத்தமான சொல்லைத் தெரிந்து எழுதுக.

- (i) இந்த அழகிலே மிகவும் மகிழ்கிறது. (என்மணம், என்மனம்)
- (ii) தன் பொற்கரங்களை நீட்டிப் களைத் தொட்டுச் செல்கிறான்.
(பனித்துளி, பணித்துளி)

06. அடையுக்குறிக்குள் சரியாக எழுதப்பட்ட சொல்லைத் தெரிந்து கோடிடுக.

- (i) நானும் தம்பியும் மாலை வேளையில் (தேனீர் / தேநீர் / தேத்தண்ணி) அருந்துவோம்.
 (ii) மாலன் (கத்திரிக்கோல் / கத்தரிக்கோள் / கத்தரிக்கோல்) கொண்டு துணியை வெட்டினான்.

07. சொற்களை ஒழுங்குபடுத்திக் கருத்துள்ள வாக்கியமாக எழுதுக.

விளங்குகின்றன / உயர்ந்து / உலகில் / நாடுகள் / உழைப்பைப் / போற்றும்

08. கீழே தரப்பட்டுள்ள உவமைத் தொடர்களுக்கான கருத்துக்களை எழுதுக.

- (i) உள்ளங்கை நெல்லிக்கனி போல
 (ii) அடியற்ற மரம் போல

09. சரியான விடையினை எழுதுக.

- (i) சோதனைகளுக்குத் தேவையான கருவிகள் இருக்குமிடம் -
 (ii) தண்டின் அல்லது அடிப்பாகத்தின் தொடர்ச்சியாக மண்ணில் நேராக இருக்கும் வேர்

10. மிகச் சரியான விடையின் கிழ்க் கோடிடுக.

- (i) தொழிற்பெயரைக் குறிக்கும் சரியான சொல் எது?
 (1) கருமை (2) துவர்ப்பு (3) கீறுதல் (4) தகரம்
- (ii) வினையடை மொழியாக வரும் சொல் எது?
 (1) வெள்ளை (2) மெதுவாக (3) அழகிய (4) ஓடினான்
- (iii) படர்க்கைப் பன்மைப் பெயர்ச்சொல் எது?
 (1) நாங்கள் (2) அவன் (3) அவர்கள் (4) நீங்கள்

11. எழுத்துக்களை ஒழுங்குபடுத்திச் சரியான ஆங்கிலச் சொற்களாக எழுதுக.

- (i) c, i, p, n, l, e :- (ii) o, m, g, n, a :-

12. தரப்பட்ட ஆங்கிலச் சொற்களுக்கான தமிழ்க் கருத்தை எழுதுக.

- (i) Is this your pencil? :
 (ii) I like ice cream. :

13. தரப்பட்ட சொற்களுக்கான சிங்களச் சொல்லைத் தமிழ் எழுத்துக்களில் எழுதுக.

- (i) அடிமட்டம் : (ii) சொல்லுங்கள் :

14. தமிழ் கருத்தை எழுதுக.

(i) முஹூன சோதன்ன.

(ii) அத்துலட்ட என்ன.

15. பண்டிகைகள் என்றால் சிறுவர்களுக்கு மட்டுமல்ல பெரியவர்களுக்கும் கொண்டாட்டம் தான். பண்டிகைகளை குடும்பத்திலும் சுற்றத்தாருடனும் இணைந்து மகிழ்ச்சியாகக் கொண்டாடுகின்றோம். இத்தகைய பண்டிகையின் அலகலங்களை முன்று வாக்கியங்களில் எழுதுக. ஒவ்வொரு வாக்கியத்திலும் ஐந்து சொற்களுக்குக் குறையாது இருத்தல் வேண்டும்.

1)

.....

2)

.....

3)

.....

16. (i) 'தொண்ணூறாயிரத்து எழுநூற்றொன்பது' என்பதை இலக்கத்தில் எழுதுக.

.....

(ii) 46020 இவ் எண்ணை விரித்தெழுதுக.

17. வெற்றிடங்களைப் பூர்த்தி செய்க.

| எண் | இலக்கம் | இலக்கம் அமைந்துள்ள இடம் | இடத்தின் பெயர் | இலக்கம் குறிக்கும் பெயர் |
|-------|---------|-------------------------|----------------|--------------------------|
| 83594 | 3 | | | |

18. தரப்பட்ட எண்ணில் முந்திய, பிந்திய எண்களை எழுதுக.

70999 :- முந்தியஎண் - பிந்தியஎண் -

19.

| | | | | |
|--|--|--|--|--|
| | | | | |
| | | | | |

(i) வழங்கப்பட்டுள்ள சதுரக் கோட்டுப் படம் சம பகுதிகளாகப் பிரிக்கப்பட்டுள்ளது. அதில் 0.7 பகுதியை நிழற்றுக்க.

(ii) நிழற்றப்படாத பகுதியைப் பின்னத்தில் எழுதுக.

20. 18465 உடன் 9628 ஐக் கூட்டும் போது வரும் கூட்டுத்தொகை யாது?


21. 20100 இலிருந்து 1089 ஐக் கழிக்கும் போது வரும் வித்தியாசத்தை எழுதுக.

.....


22. திருமண நிகழ்வொன்றிற்காக மண்டபம் ஒன்றில் எட்டு கதிரைகள் வீதம் 24 நிரைகளிலும் பன்னிரண்டு கதிரைகள் வீதம் 30 நிரைகளிலும் கதிரைகள் அடுக்கி வைக்கப்பட்டிருந்தன. மண்டபத்தில் அடுக்கி வைக்கப்பட்டிருந்த கதிரைகளின் மொத்த எண்ணிக்கை யாது?

23. சரியான முறையில் நேரத்தைக் காட்டும் கடிகார முகத்தின் கீழ்க் கோடிடுக.

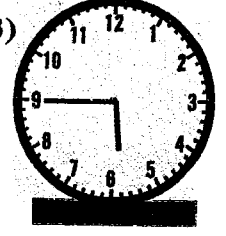
(1)



(2)



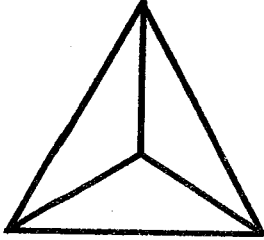
(3)



24. சுமனா பாடசாலையிலிருந்து பி.ப 1.30 இற்குப் புறப்பட்டு 40 நிமிடங்களில் வீட்டைச் சென்றடைந்தாள். அவள் வீட்டைச் சென்றடைந்த நேரத்தை இருபத்துநான்கு மணித்தியாலக் கடிகாரத்தில் காட்டும் முறையில் எழுதுக.

25. பரத் 28km தூரம் பயணஞ் செய்ய வேண்டும். அவன் அதில் 24km 750m தூரத்தைப் பேருந்திலும் மீதித் தூரத்தை முச்சக்கரவண்டியிலும் சென்றடைந்தான். எனின் அவன் முச்சக்கரவண்டியில் சென்ற தூரம் யாது?

26. தரப்பட்ட திண்ம உருவை அவதானித்து விடை எழுதுக.



(i) திண்மத்தின் பெயர் :

(ii) முகங்களின் எண்ணிக்கை :

(iii) உச்சிகளின் எண்ணிக்கை :

(iv) விளிம்புகளின் எண்ணிக்கை :

27. விளம்பரம் ஒன்றிற்கு முதல் 50 சொற்களுக்கும் ரூபா 1375.00 ஆகும். அடுத்து வரும் ஒவ்வொரு சொல்லுக்கும் ரூபா 3.50 வீதம் அறவிடப்படுகின்றது. எனின் 94 சொற்கள் கொண்ட விளம்பரத்திற்குச் செலவாகும் பணத்தொகை யாது?

28. 'தரம் 5 புலமைப் பரிசில் பரீட்சைக்கு இன்னும் 84 நாட்கள் உள்ளன' என ஆசிரியர் கூறினார். உடனே அந் நாட்களின் எண்ணிக்கை எத்தனை வாரங்கள் எனக் கேட்ட போது மாணவர்கள் கூறிய சரியான விடை யாது?

29. ஊழியர் ஒருவரின் ஒரு நாட்சம்பளம் ரூபாய் 1300.00 ஆகும். அவர் வாரத்தில் இரண்டு நாட்கள் மட்டும் வேலைக்குச் செல்வதில்லை. எனின் அவர் ஒரு வாரத்தில் பெறும் சம்பளப்பணம் யாது?

30. பிரதான வீதி ஒன்றில் ஒரு மணித்தியாலத்தில் சென்ற வாகனங்களின் விபரங்கள் தரப்பட்டுள்ளன. அதனை அவதானித்து விடை எழுதுக.

| வாகனத்தின் வகை | எண்ணிக்கை |
|-------------------|-----------|
| மோட்டார் கார் | 18 |
| மோட்டார் சைக்கிள் | 42 |
| வான் | 7 |
| முச்சக்கரவண்டி | 21 |
| துவிச்சக்கர வண்டி | 78 |

(i) வீதியால் சென்ற இருசக்கர வாகனங்களின் மொத்த எண்ணிக்கை யாது?

.....

(ii) ஒரு மணித்தியாலத்தில் வீதியால் சென்ற வாகனங்களின் மொத்த எண்ணிக்கை யாது?

.....

• இலக்கம் 31 தொடக்கம் 60 வரையிலான ஒவ்வொரு வினாவிற்கும் பொருத்தமான விடையைத் தரப்பட்டுள்ள விடைகளிலிருந்து தெரிவு செய்து அதன் கீழ்க் கோடிடுக.

31. சித்திரை மாதத்தில் பூக்கும் தாவரங்களைக் கொண்ட தொகுதி

- (1) வாழை, தென்னை, பூவரசு
- (2) வேம்பு, முருங்கை, முள்முருக்கு
- (3) அன்னமுன்னா, பாலை, கொன்றை

32. தாவரமொன்றின் வளர்ச்சிக்கு அவசியமல்லாத காரணி

- (1) சூரியஒளி
- (2) காற்று
- (3) போதியஇடம்

33. பல வகையான நிறங்களில் காணப்படும் பூ

- (1) ரோசா
- (2) நித்தியகல்யாணி
- (3) பொன்னொச்சி

34. பின்வருவனவற்றுள் மருந்து மூலிகையாகப் பயன்படுத்தும் தாவரங்கள்

- (1) கற்பூரவள்ளி, கீழ்க்காய்நெல்லி, தூதுவளை
- (2) அரலி, தேக்கு, எருக்கலை
- (3) முதிரை, வேம்பு, நிலவேம்பு

35. பின்வருவனவற்றுள் எருக்கலை வித்து எது?

(1)



(2)



(3)



36. அதிக நீர் தேவைப்படும் தாவரம்

- (1) பனை
- (2) வாழை
- (3) வேம்பு

37. மேற்பரப்பில் ஒட்டியிருப்பதற்கு விசேட பாதங்களைக் கொண்டிருக்கும் பிராணி

- (1) தவளை
- (2) பல்லி
- (3) ஓணான்

38. பறவையினங்களுள் பாலூட்டி இனம் எது?

- (1) தீக்கோழி
- (2) ஆந்தை
- (3) வெளவால்

39. உடல் வளர்ச்சியில் கூடிய பங்களிப்புச் செய்யும் உணவுப் பொருள்களின் கூட்டம்

- (1) சோறு, சீனி, பாசிப்பயறு
- (2) பருப்பு, பசளி, வல்லாரை
- (3) பருப்பு, பாசிப்பயறு, சோயாஅவரை

40. புத்தகங்களிடையே காணப்படும் பூச்சியினம்

(1)



(2)



(3)



41. பாடசாலையில் காலைப் பிரார்த்தனையில் ஈடுபட்டுக் கொண்டிருந்த நீலிமா மயக்கமடைந்து கீழே விழுந்தாள். எனின் அவளுக்கு உடனடியாகச் செய்யக் கூடிய முதலுதவி யாது?

- (1) சிறிதளவு நீரைத் தெளித்தலும் அருந்துவதற்குக் கொடுத்தலும்.
- (2) ஆடையைத் தளர்த்தி நன்றாகக் காற்றுப்படச் செய்தல்.
- (3) தலையை நன்கு கீழ்நோக்கித் திருப்பிக் காற்றுப்படச் செய்தல்.

● மாணவர் குழுவொன்று செயற்பாட்டின் போது ஒழுங்கு செய்த செயற்பாடு உருவில் தரப்பட்டுள்ளது. அதனை அவதானித்து 42, 43 ஆகிய வினாக்களுக்குரிய விடையைத் தெரிக.



42. எவ் உலோகத்தாலான ஆணியை மாணவர்கள் பயன்படுத்தினர்?

- (1) தங்கம்
- (2) இரும்பு
- (3) அலுமினியம்

43. ஆணியில் காந்தத் தன்மையை அதிகரிக்க மாணவர்கள் யாது செய்திருப்பர்?

- (1) கம்பிச்சுருள் அல்லது உலர்மின்கலங்களின் எண்ணிக்கையைக் குறைத்தல்.
- (2) இரும்பாணிக்குப் பதிலாக தங்கத்திலாலான ஆணியைப் பயன்படுத்துதல்.
- (3) கம்பிச்சுருள் அல்லது உலர் மின்கலங்களின் எண்ணிக்கையை அதிகரித்தல்.

44. ஆங்கிலேயரால் 'தேசத் துரோகி' எனப் பிரகடனப்படுத்தப்பட்டவர் யார்?

- (1) வண. எஸ். மகிந்ததேரர்
- (2) கெப்பெட்டிப் பொல திசாவை
- (3) கொங்காலே கொட பண்டா

45. மரச்செதுக்கல் வேலைப்பாட்டிற்குப் பிரசித்தி பெற்ற இடம் எது?

- (1) சிகிரியாக்குன்று
- (2) எம்பக்க தேவாலயம்
- (3) தூபராமய

46. 'சகல சௌபாக்கியங்களையும் கொண்ட தன்னிறைவான இந்நாட்டில் சூரியனும் சந்திரனும் நிலைத்திருக்கும் காலமெல்லாம், தார்மீகத்தைக் காத்தவாறு நாட்டு மக்கள் யாவரம் இருப்பார்களாக!' இக்கருத்தை வெளிப்படுத்துவது இலங்கையின்

- (1) தேசியக்கொடி
- (2) அரச இலச்சினை
- (3) தேசியகீதம்

47. இலங்கை ஆங்கிலேய ஆட்சியரிடமிருந்து எப்போது சுதந்திரத்தைப் பெற்றுக்கொண்டது?

- (1) 1948.04.02
- (2) 1948.02.04
- (3) 1945.02.04

48. குளத்தையும் கட்டிய மன்னரையும் சரியாகக் காட்டுவது.

- (1) பராக்கிரம சமுத்திரம் - தாதுசேனன்
- (2) சேனநாயக்க சமுத்திரம் - தேவநம்பிய தீஸன்
- (3) மின்னேரியாக்குளம் - பராக்கிரமபாகு

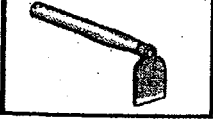


49. இலங்கையின் பாராளுமன்றத்தைச் சுற்றியோடும் ஆறு

- (1) தியவன்னஓயா (2) களனிகங்கை (3) மாணிக்க கங்கை

50. குளம் ஒன்று காணப்படும் இடத்தைக் குறித்துக் காட்டுவதற்கு இலங்கைத் தேசப்படங்களில் பயன்படுத்தப்படுவது

- (1) நீலநிறக் கோட்டின் மீது இடப்பட்டுள்ள புள்ளி
(2) நீலநிறத்தில் நிறந்தீட்டப்பட்டுள்ள சிறிய பிரதேசம்
(3) ஓர் இடத்துடன் தொடர்பு படுத்தப்பட்ட நீலநிறக் கோடுகள்

51. விவசாயத்திற்குப் பயன்படுத்தப்படாத உபகரணம்

- (1)  (2)  (3) 

52. இரண்டு காந்தங்களை மேசை மீது வைத்து ஒரு காந்தத்தின் ஒரு முனையை மற்றைய காந்தத்தின் ஒத்த முனையுடன் இணைக்கும் போது யாது நிகழும்?

- (1) உடையும் (2) கவரும் (3) தள்ளும்

53. இலங்கையில் காணப்படும் வணக்கத்துக்குரியது அல்லாத வரலாற்றுப் பிரசித்தி பெற்ற இடம்


- (1) தலதாமாளிகை (2) நாகதீப விகாரை (3) யாழ்ப்பாணக் கோட்டை

54. இலங்கையின் பெருந்தெருக்களில் ஓடும் பாதைகளின் மேல் வீதிச் சட்ட திட்டங்களுக்கு அமைவாகக் கோடுகள் வரைவதற்குப் பயன்படுத்தும் நிறங்கள் எவை?

- (1) மஞ்சள், கறுப்பு (2) கறுப்பு, வெள்ளை (3) முஞ்சள், வெள்ளை




55. முனையைப் பயன்படுத்தி விளையாடும் விளையாட்டு

- (1) கரம் (2) சதுரங்கம் (3) பல்லாங்குழி

56.  இக்குறியீட்டின் விளக்கம்

- (1) நோயாளிகள் (2) வலது குறைந்தோர் (3) கவனமாகச் செல்லவும்

57. முன்னால் பாதுகாப்பான புகையிரதக் கடவை

- (1)  (2)  (3) 

58. கூட்டுப் பசளை செய்வதற்குப் பயன்படுத்தும் பொருள்

- (1) கண்ணாடித்துண்டு (2) பொலித்தீன் (3) இலைகுழைகள்

59. மண்ணரிப்பு ஏற்படுவதற்குப் பின்வரும் எக்காரணி தொடர்புடையதாக அமைகின்றது?

- (1) நிலமேற்பரப்பில் புல்வளர்த்தல். (2) மரங்களை வெட்டுதல். (3) கல்வேலி அமைத்தல்.

60. ஊசித்துளைக் கமராவின் திரை செய்யப் பயன்படுவது

- (1) வெள்ளைத் திகத்தாள் (2) காட்போட் மட்டை (3) தகரத்துண்டு

வினாத்தாள் II

01. (i) பட்சிகளின் இனிய கானம்
(ii) சேவல்கள், காகங்கள்
(iii) பட்சிகளின்
(iv) விடியல்
(v) வரவேற்கின்றன.
(vi) இனிய (7 x 1 = 7)
(vii) கூட்டங்கூட்டமாக

02. (i) பிழை (ii) சரி
(iii) பிழை (3 x 1 = 3)

03. (i) (2) திரள்
(ii) (1) கூட்டம் (2 x 1 = 2)

04. பொறுத்தார்க்கு, துணையும்
(2 புள்ளி)

05. (i) என்மனம்
(ii) பனித்துளி (2 x 1 = 2)

06. (i) தேநீர் (2 x 1 = 2)
(ii) கத்தரிக்கோல்

07. • உழைப்பைப் போற்றும்
நாடுகள் உலகில் உயர்ந்து
விளங்குகின்றன.
• உலகில் உழைப்பைப்
போற்றும் நாடுகள் உயர்ந்து
விளங்குகின்றன. (1 புள்ளி)

08. (i) தெட்டத் தெளிவு
(ii) உறுதியற்றது (2 x 1 = 2)

09. (i) ஆய்வுகூடம்
(ii) ஆணிவேர் (2 x 1 = 2)

10. (i) (3) கீறுதல்
(ii) (2) மெதுவாக
(iii) (3) அவர்கள் (3 x 1 = 3)

11. (i) Pencil (ii) Mango
(2 x 1 = 2)

12. (i) இது உங்களுடைய
பென்சிலா?
(ii) எனக்கு ஜஸ்கிரீம்
பிடிக்கும். (2 x 1 = 2)

13. (i) கோதுவ / அடிருலா
(ii) கியன்ன (2 x 1 = 2)

14. (i) முகத்தைக் கழுவுங்கள்
(ii) உள்ளே வாருங்கள்
(2 x 1 = 2)

15. (i) பொருத்தமான
வாக்கியங்கள் (6 புள்ளி)

16. (i) 90709
(ii) 40000 + 6000 + 0 +
20 + 0

17. ஆயிரங்கள், 1000, 3000

18. 70998, 71000

19. (i) 7 கட்டங்களுக்கு
நிழற்றுக்.
(ii) 3/10

20. 28093

21. 19011

22. 552 கதிரைகள்

23. (3)

24. 14 : 10

25. 3km 250m

26. (i) நான்முகி
(ii) 4
(iii) 4
(iv) 6

27. ரூபாய் 1529.00

28. 12 வாரங்கள்

29. ரூபாய் 6500.00

30. (i) 120
(ii) 166 (15 x 2 = 30)

31. (2) வேம்பு, முருங்கை,
முள்முருக்கு

32. (2) காற்று

33. (1) ரோசா

34. (1) கற்பூரவள்ளி,
கீழ்க்காய்நெல்லி,
தூதுவளை

35. (3) 

36. (2) வாழை

37. (2) பல்லி

38. (3) வெளவால்

39. (3) பருப்பு, பாசிப்பயறு,
சோயாஅவரை

40. (2)



41. (2) ஆடையைத் தளர்த்தி
நன்றாகக் காற்றுப்படச்
செய்தல்.

42. (2) இரும்பு

43. (3) கம்பிச்சுருள் அல்லது
உலர் மின்கலங்களின்
எண்ணிக்கையை
அதிகரித்தல்.

44. (3) கொங்காலே கொட
பண்டா

45. (2) எம்பக்க தேவாலயம்

46. (2) அரச இலச்சினை

47. (2) 1948.02.04

48. (2) சேனாநாயக்க சமுத்திரம்
- தேவநம்பியதீசன்

49. (1) தியவன்னடியா

50. (2) நீலநிறத்தில்
நிறந்தீட்டப்பட்டுள்ள
சிறிய பிரதேசம்

51. (3)



52. (3) தள்ளும்


53. (3) யாழ்ப்பாணக் கோட்டை

54. (3) மஞ்சள், வெள்ளை

55. (1) கரம்

56. (2) வலது குறைந்தோர்

57. (2)



58. (3) இலைகுழைகள்

59. (2) மரங்களை வெட்டுதல்.

60. (1) வெள்ளைத் திசுத்தாள்
(30 x 1 = 30)

வினாத்தாள் II

01. (i) விறு விறு
(ii) வண்ண வண்ண
(iii) புதிய
(iv) வியாபாரிகள்
(v) ஊழியர்கள்
(vi) கலப்பை (6 x 1 = 6)

02. (i) ஓசூர்
(ii) ஐவைந்து (2 x 1 = 2)

03. (i) சிறுவர்கள் பூங்காவில் விளையாடி மகிழ்கின்றார்கள்.
(ii) மாண்கள் திக்குத் திசை தெரியாது சிதறி ஓடின. (2 x 1 = 2)

04. (i) வானம் (ii) வாண (2 x 1 = 2)

05. (i) பிழை (ii) சரி
(iii) சரி (3 x 1 = 3)

06. (i) மருத்துவிச்சி
(ii) பேர்த்தி (2 x 1 = 2)

07. கிட்டிப்புள்ளும் பம்பரமும் (2 x 1 = 2)

08. (i) “மின்னுவதெல்லாம் பொன்னல்ல” என்பது பழமொழியாகும்.
(ii) ஆ! சுவையே சுவை! இந்த இனிய கனி உமக்கு எப்படிக்கிடைத்தது? (2 x 1 = 2)

09. (i) வைத்தியர்கள்
(ii) வருவேன் (iii) நீங்கள் (3 x 1 = 3)

10. (i) இறந்தான், மரணித்தான்
(ii) கட்டளைகள் (2 x 1 = 2)

11. (i) Bicycle (ii) Rabbit (2 x 1 = 2)

12. (i) யார் சத்தம் போடுவது?
(ii) நான் வெளியே போகலாமா (2 x 1 = 2)

13. (i) கிரிபத் (ii) பூசா (2 x 1 = 2)

14. (i) நாங்கள் போகின்றோம்
(ii) தங்கை எங்கே? (2 x 1 = 2)

15. பொருத்தமான வாக்கியங்கள் (6 புள்ளி)

16. 99669, 96969, 69699, 66999

17. (i) ஆயிரங்கள்
(ii) 600

18. XIV

19. 2579

20. (i) 162, 486
(ii) 31, 56

21. 9861

22. 27Kg 500g / 27500g

23. வரைந்து காட்டுக.

24. (i) 172 பிள்ளைகளுக்கு
(ii) 2 பென்சில்கள்

25. 21தலையணை உறைகள்

26. (i) தென்மேற்கு
(ii) 27Km 325m / 2325m

27. 10Kg 650ml / 10650ml

28. (i) ரூபாய் 18.00
(ii) ரூபாய் 424.00

29. 13 : 45

30. (i) கனவுரு
(ii) 12 (15 x 2 = 30)

31. (1) உதிப்பு

32. (2) சிறுநீரகங்கள் ஆரோக்கியமாக இருக்கும்.

33. (3) நித்திரை செய்தல்

34. (1) நிலைத்திருத்தல்

35. (2) சிங்களவர்

36. (2) சிகிரியா

37. (2) அனூராதபுரம், கொழும்பு

38. (3) யால, அப்பாந்தோட்டை

39. (2) நயினாதீவு

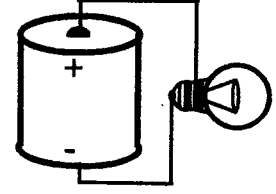
40. (1) கிராமசேவகர் அலுவலகம்

41. (1) மீள்குழற்சிக்குட்படுத்தக் கூடியது

42. (3) கறுப்பு, மஞ்சள்

43. (2) தலைகீழானது

44. (2)



45. (2) குப்பை கூளங்களைக் கூட்டெருவுக்குப் பயன்படுத்தல்

46. (3) மரங்கொத்தி

47. (2) தேசிய விழாக்களின் போது மாத்திரம் தேசியக்கொடி ஏற்றப்படும்.

48. (3)



49. (1) விலங்குகளும் எம்மைப்போல வாழ

- விரும்புகின்றமையால்.

50. (2) வேப்பம்வித்து

51. (3) தமக்கு விரும்பியவாறு செயற்படுதல்.

52. (2) குண்டுசியைக் காந்தம் கவர்ந்து

53. (2) சிங்களவர்

54. (1) 7, 5

55. (1) வயலில் நீரைத் தேக்கி வைக்க.

56. (3) காசோலை மாற்றுதல்.

57. (1)



58. (3) சந்திரவட்டக்கல்

59. (1) நீரிழிவு

60. (2) ஈரச்சாக்கால் போர்த்தி நிலத்தில் உருளச் செய்தல்.

(30 x 1 = 30)

வினாத்தாள் II

01. (i) கல்வியில்
(ii) கண்களை
(iii) பக்குவமாக
(iv) பயன்படுத்துவோம்
(v) பெருமை
(vi) நூல்களை (6 x 1 = 6)

02. (i) (3) இருநூற்றுப் பதினாறு
(ii) (3) மேய்ந்தது
(iii) (2) ஆறு (3 x 1 = 3)

03. (i) சமதி அதிகாலையில்
எழுந்தாள்
(ii) சமதி கருத்துடன்
கற்றாள் (2 புள்ளி)

04. (i) அ.றிணை, பலவின்பால்
(ii) உயர்திணை, ஒருமை
(2 x 1 = 2)

05. (i) தபால் பெட்டி இலக்கம்
(ii) இலங்கை ரூபவாகினி
கூட்டுத்தாபனம்
(2 x 1 = 2)

06. (i) வடு (ii) நங்கு
(2 x 0.5 = 1)

07. (i) (2) கட்டித்தழுவி
(ii) (3) திருதிரு
(iii) (3) சகோதரர் (3 x 1 = 3)

08. (i) தாமரைக் கோபுரம்
(ii) பீர்பால் (iii) நத்தார்
(3 x 1 = 3)

09. (i) மறுகணமே (ii) விரயம்
(2 x 1 = 2)

10. (i) உரிய நேரத்தில் உரிய
செயலைச் செய்து முடிக்க
வேண்டும்.
(ii) நாம் காலையும் மாலையும்
இறைவனை வழிபட வேண்டும்.
(2 x 1 = 2)

11. (i) Spider (ii) Radio
(2 x 1 = 2)

12. (i) குளியலறை
(ii) திரும்பி வாருங்கள்
(2 x 1 = 2)

13. (i) குருவரயா (ii) பென்சல
(2 x 1 = 2)

14. (i) உங்கள் நண்பன் யார்?
(ii) புத்தகம் இருக்கிறது.
(2 x 1 = 2)

15. (i) பொருத்தமான
வாக்கியங்கள் (6 புள்ளி)

16. மூவாயிரத்து எழுநூறு

17. 46999, 47001

18. 8590, 9580, 8509, 9508

19. (i) 7 முக்கோணங்களுக்கு
நிழற்றுக். (ii) 3/10

20. (i) 180, 200 (ii) 30

21. 80 கொய்யாப்பழங்கள்

22. (i) 7674 துவிச்சக்கர
வண்டிகள்

- (ii) 702 துவிச்சக்கர வண்டிகள்

23. $\frac{3}{5}$ பகுதிக்கு என வழங்குக.

24. 270 மாத்திரைகள்

25. 45Kg

26. (i) 3.5 cm

27. 2075 ml

28. 13:10

29. (i) புதன்கிழமை (ii) 80

30. (i) 2 தடவைகள்

- (ii) மு.ப 12.45
(15 x 2 = 30)

31. (1) ஆபிரிக்க நாடுகள்

32. (2) களியாட்ட நிகழ்வுகள்

33. (3) கி.பி 1815

34. (1) நிலைத்திருத்தல்

35. (2) 29

36. (3) கொழும்பு

37. (3) வட மாகாணம்

38. (3) ஊசி தாங்கி

39. (1) சின்னமுத்து,
கொப்பளிப்பான்

40. (1) உயர்குருதியமுக்கம்

41. (2) கண்டி, மாத்தளை,
நுவரெலியா


42. (3) கண்ணாடிப்
பாத்திரத்தைக் கையில்
ஏந்தியவாறு ஓடுதல்.

43. (2) பாத்திரத்தில் நீர்
குறைவடைந்திருத்தல்.

44. (3) 


45. (3) சதைகரைச்சான்

46. (1) எண்ணை,
ஹின்போவிட்டியா,
கொடபறை, கெக்கட்டியா

47. (2) 

48. (2) கற்பூரவள்ளி

49. (2) வெளவால், கீரி,
முஞ்சூறு, திமிங்கலம்

50. (1) 

51. (1) குழலுக்கேற்ப தனது
உடலின் நிறத்தை மாற்றுதல்.

52. (3) கோழி

53. (1) பற்றாரிகை, சவர்க்காரம்,
கைக்குட்டை

54. (2) வைத்தியசாலை

55. (3) நுகர்வோர் பாதுகாப்பு
அதிகாரசபை

56. (3) சூரிய ஒளியுடன்
சிறுமழை பெய்யும் போது

57. (2) சூரிய ஒளி நன்கு
கிடைக்கின்ற நீர்
வழிந்தோடும் கற்கள்
அற்ற சமதரையாகும்.

58. (2) ஆதர்.சி.கிளாக்

59. (1) 

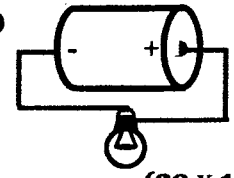
60. (1) பசவக்குளம் -
பண்டுகாபயன்
(30 x 1 = 30)

வினாத்தாள் II

01. (i) நாய்கள்
(ii) தினமும்
(iii) ஒற்றுமையில்லாமை
(iv) வசித்து வந்தன
(v) ஒன்றோடொன்று
(vi) சண்டை (6 x 1 = 6)
02. (i) பட்டிமன்றம்
(ii) அணிந்துரை (2 x 1 = 2)
03. (i) ஊண் (ii) கறை
(iii) ஒளி (iv) சென்றாள்
(4 x 1 = 4)
04. வைத்தியசாலையில் உள்ள
நோயாளிகள் பருகச் சுத்தமான
வெந்நீர் கொடுக்கப் பட்டது
(2 புள்ளி)
05. (i) கிராமங்கள் அழகானவையா?
(ii) புயற்காற்று “ஊ ஊ”
என இரைந்தது.
(2 x 1 = 2)
06. ஈட்டி எட்டின மட்டும் பாயும்.
(2 புள்ளி)
07. (i) மான் குளத்தில் தண்ணீர்
குடித்தது.
(ii) மரத்தைக் கோடாரியால்
வெட்டினான். (2 x 1 = 2)
08. அவர்கள் சுவையாக
உணவு சமைத்தார்கள்.
(2 புள்ளி)
09. (i) புராதனம் (ii) நண்பன்
(2 x 1 = 2)
10. (i) அறிவுறுத்தல்
(ii) அறிவித்தல் (2 x 1 = 2)
11. வெள்ளத்தால் கல்லெறிந்து
வீண்சண்டையால் வழக்கி
(2 புள்ளி)
12. (i) நூலகம் (ii) சகோதரன்
(2 x 1 = 2)
13. (i) Hoe (ii) Kite
(2 x 1 = 2)
14. (i) This is my sister
(ii) There are in the canteen
(2 x 1 = 2)
15. (i) உட்காருங்கள் (1 புள்ளி)

16. மம எலியட்ட யன்தை?
(1 புள்ளி)
17. 60700
18. ஏழாயிரத்து நூற்று எழுபத்து
மூன்று
19. 7
20. (i) 1cm (ii) 10cm
21. (i) ரூபாய் 1055.00
(ii) ரூபாய் 140.00
22. 310 இனிப்புக்கள்
23. 18
24. வரைந்து காட்டுக.
25. (i) 5 மணித்தியாலம் 15
நிமிடங்கள்
(ii) 15 : 30
26. (i) 14 கட்டங்களுக்கு
நிழற்றுக்.
(ii) 3/10 / 6/20
27. 15
28. 11l 250ml
29. 354 பழங்கள்
30. 23km (14 x 2 = 28)
31. (1) சிறுநீசுங்கள் ஆரொக்கிய
மானவையாக இருத்தல்.
32. (3) 4 வது படி
33. (1) நிலவேம்பு காட்டிலுட்பை,
பெரும்பிரம்பு
34. (3) சிக்கன்குனியா,
கழிச்சல்நோய்
35. (2) பலாக்காய்,
மரவள்ளி, இராசவள்ளி
36. (2) ஊதா
37. (1) அம்பாறை - குமண
38. (2) வெள்ளி
39. (3) அமாவாசை

40. (1) சிற்றுண்டிச்சாலை
41. (2) கல்வி, சுகாதாரம்,
மருத்துவம்
42. (3) இரப்பையழற்சி
43. (2) கனியுப்புக்களையும்
நீரையும் உறிஞ்சுதல்.
44. (1) சங்கிலித்தையல்
45. (2) மொனராவில
கெப்பெட்டிப்பொலதிசாவ
46. (3) 45cm
47. (3) முஸ்லீம்
48. (1) வீதி ஒளிச்சமிக்கை
49. (1) உப்பு நீரில் அமிழும
50. (1) அம்பாந்தோட்டை
51. (1) துன்கிந்த, பதுளை
52. (3) தும்பி
53. (2) போத்தல், தகரம்
போன்ற கழிவுப்
பொருட்களை இடுதல்.
54. (3) வண்ணத்துப்புச்சியினம்
55. (2) கத்தரி, தக்காளி,
கறிமிளகாய்
56. (1) இரும்பு ஓட்டு வேலை
செய்வோர்
57. (3) ஆயிரம் ரூபாய்
தாள்காசு
58. (2) வானொலி
59. (3) பழப்புளி
60. (3)



(30 x 1 = 30)

61. பொருத்தமான
வாக்கியங்கள்
(6 புள்ளி)