



சபரகமுவ மாகாண ஆரம்பக்கல்விப் பரீவு



சிக சவிய 2024

தரம் - 5

மாணவர்களை பாடசாலைகளுக்கு தேர்ந்தெடுப்பதற்காகவும் உதவிப்பணம் வழங்குவதற்குமாக தரம் 5 மாணவர்களுக்காக நடாத்தப்படும் புலமைப்பரிசில் பரீட்சைக்காக மாணவர்களைத் தயார்படுத்தவதற்காக நடாத்தப்படும் முன்னோடிப் பரீட்சை

மதிப்பீட்டுப் பரீட்சை இலக்கம் - 2

வினாத்தாள் - 11

01 மணி 15 நிமிடங்கள்

இந்த வினாத்தாள் பரீட்சையல்ல என்பதோடு மாணவர்களின் அடைவு மட்டத்தினை அளவிடுவதற்காக மாத்திரம்

சுட்டெண் : -

பரீட்சார்த்திகளுக்கான ஆலோசனைகள்

- பரீட்சை சுட்டெண்ணை குறித்த இடத்தில் எழுதவும்.
- முன்றாவது பக்கத்திலும் குறித்த இடத்தில் பரீட்சை சுட்டெண்ணை எழுதவும்.
- வினாத்தாளில் 60 வினாக்கள் இருக்கின்றன. சில வினாக்களில் உப வினாக்களும் காணப்படுகின்றன.
- எல்லா வினாக்களுக்கும் வினாத்தாளிலேயே விடையளிக்கவும்.
- செய்கை வேலைக்காக தாள் வழங்கப்படும்.

விடைத்தாள் பரீட்சகர்களின் பாவனைக்கு மாத்திரம்

பக்க இலக்கம்	பெற்றப் புள்ளிகள்
2	
3	
4	
5	
6	
7	
8	
மொத்தப் புள்ளி இலக்கத்தில்	
மொத்தப் புள்ளி எழுத்தில்	

	கையெழுத்து, குறியீட்டு இலக்கம்
முதலாவது பரீட்சகர் புள்ளி வழங்கும் திட்டத்தின் அடிப்படையில் மதிப்பீடு செய்யப்பட்டது என்பதை உறுதிப்படுத்துகின்றேன்.	V/II/S
இரண்டாவது பரீட்சகர் முதலாவது பரீட்சகரின் மதிப்பீடு சரியென உறுதிப்படுத்தகின்றேன்.	V/II/S
மதிப்பீட்டுப் புள்ளியை உறுதிப்படுத்தும் பரீட்சகர் மதிப்பீடு செய்து வழங்கிய புள்ளிகள், இறுதிப்புள்ளிகள் சரியென உறுதிப்படுத்துகின்றேன்.	V/II/S/EMF
பிரதான பரீட்சகர் மேற்பார்வை செய்யப்பட்டது. இறுதிப்புள்ளி சரியானது.	V/II/S/CH

2024.04.09 மு.ப 09.30 – மு.ப 10.45

01. கீழே தரப்பட்டுள்ள பந்தியை வாசித்து கேட்கப்பட்டுள்ள வினாக்களுக்கு விடை தருக.

வண்ணத்துப்பூச்சிகளின் பிரதான உணவு அமுதம் ஆகும். பெரும்பாலும் அவை திரவ உணவையே உண்ணும். அவை கண்களைத் திறந்தபடியே இரவில் ஓய்வெடுக்கின்றன. இவற்றின் இறக்கைகளில் அமைந்துள்ள நரம்பு மண்டலம் இறக்கைகளுக்கு சக்தியை கொடுக்கின்றது. உலகின் பல பகுதிகளிலும் பல வண்ண வண்ணத்துப்பூச்சிகள் காணப்படுகின்றன.

1. வண்ணத்துப்பூச்சியின் பிரதான உணவாக குறிப்பிடப்படுவது யாது?

2. பந்தியிலுள்ள பெயர்ச்சொற்கள் இரண்டைக் குறிப்பிடுக.

3. “இரவில் ஓய்வெடுக்கின்றன” என்ற வாக்கியத்தை இறந்தகால வாக்கியமாக எழுதுக.

4. அவை என்ற சொல்லிலுள்ள உயிர்க்குறியின் பெயரை எழுதுக.

5. அ.றிணை, படர்க்கை, பெயர்ச்சொல் ஒன்றினைக் குறிப்பிடுக.

6. வண்ணத்துப்பூச்சிகளின் இறக்கைகளுக்கு சக்தியைக் கொடுப்பது எது?

02. உயர்திணை, பன்மை, இறந்தகால வினைச்சொல்லின் கீழ்க் கோடிடுக.

1. செய்தன

2. செய்தார்

3. செய்தார்கள்

03. மாறிகிடக்கும் சொற்களை ஒழுங்குபடுத்தி கருத்துள்ள வாக்கியமாக மீண்டும் எழுதுக.

அருகே / வந்தன / இரண்டு / மான்கள் / ஒரு / குளத்திற்கு

04. கீழே தரப்பட்டுள்ள வாக்கியங்கள் சரியாயின் (சரி) எனவும் பிழையாயின் (பிழை) எனவும் எழுதுக.

1. அண்ணா பாட்டுப் பாடுகின்றார். (.....)

2. தம்பி மைதானத்தில் பட்டம் விடுகிறார்கள். (.....)

3. மாலதி இனிமையாக பாட்டுப் பாடுவான். (.....)

4. நாங்கள் கடலோரத்தில் மணல் வீடு கட்டி விளையாடுவோமா? (.....)

5. பத்து ஆண்டுகள் ஒரு நூற்றாண்டு எனப்படுகிறது. (.....)

05. பொருத்தமான நிறுத்தக்குறிகளை இடுக.

நாம் அருகில் வந்துவிட்டோம் எனக்கூறிய மான்குட்டி சிங்கத்தை ஒரு குழிக்கு அருகில் கூட்டிச்சென்றது

06. கீழே தரப்பட்டுள்ள வினாக்களுக்கு பொருத்தமான சொல்லை வைத்து இடைவெளி நிரப்புக.

1. வைத்தியசாலைக்குள்பயன்படுத்துவது தடை செய்யப்பட்டுள்ளது.
2. சூடுகண்ட பூனைநாடாது.
3. தெருக்கள் கூடுமிடம்..... என அழைக்கப்படும்.

07. எழுத்துப் பிழையில்லாத சொல்லைத் தெரிவுசெய்து அதன் கீழ்க் கோடிடுக.

- | | | |
|------------------|---------------|---------------|
| 1. காச்சல் | காய்ச்சல் | காய்ச்சள் |
| 2. பல்கலைக்கழகம் | பள்களைக்கழகம் | பல்கழைக்கழகம் |
| 3. ஆசிரமம் | ஆச்சிரமம் | ஆச்சிறமம் |

08. கீழே தரப்பட்டுள்ள வாக்கியத்தை பன்மை வாக்கியமாக மாற்றி எழுதுக.
சிறுவன் மைதானத்தில் விளையாடினான்.

09. சேர்த்தெழுதுக.

1. மா + காய் =
2. பூ + சோலை =

10. ஆங்கில சொல்லுக்குப் பொருத்தமான தமிழ்ச் சொல்லை எழுதுக.

1. Rainbow:
2. Hospital:

11. உருக்களுக்குப் பொருத்தமான ஆங்கிலச் சொல்லை ஆங்கிலத்தில் எழுதுக.



.....



.....

12. மாறிகிடக்கும் சொற்களை ஒழுங்குபடுத்தி கருத்துள்ள வாக்கியமாக மீண்டும் எழுதுக.

1. my / younger / This / sister /is

.....

2. helping / am / my / I / mother

.....

13. தபல் கார்யாலய என்ற சிங்களச் சொல்லுக்குரிய தமிழ் சொல்லை தமிழில் எழுதுக.

.....

14. பின்வரும் வாக்கியம் சிங்களத்தில் கூறப்படும் விதத்தை தமிழ் எழுத்துக்களில் எழுதுக.

கை கழுவுங்கள் :

- எல்லா வினாக்களுக்கும் புள்ளிக்கோட்டின் மீது விடை எழுதுக.

15. 1) 79000 என்ற எண்ணுக்கு ஒன்று குறைந்த இலக்கத்தின் எண்பெயரை எழுதுக.

.....

2) முப்பத்தையாயிரத்து ஒன்பது என்ற எண்ணை இலக்கத்தில் எழுதுக.

.....

16. 6784

1) வட்டமிடப்பட்டுள்ள இலக்கத்தின் இடப்பெறுமானம் யாது?

2) 6784 என்ற எண்ணை விரித்தெழுதுக. + + +

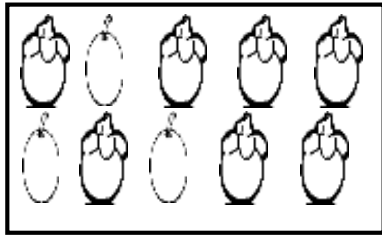
17. கீழே தரப்பட்டுள்ள எண்களை இறங்குவரிசைப்படி எழுதுக.

97438, 97593, 97452

18. தருன், மாஹிர், விகாஷ் ஆகியோர் சேர்ந்து சேகரித்த முத்திரைகளின் எண்ணிக்கை முறையே 384, 592, 1241 ஆகும். ஆகவே மூவரும் சேர்ந்து சேகரித்த முத்திரைகளின் எண்ணிக்கை எவ்வளவு?

19. 50kg நிறையுடைய சீனி பொதியிலிருந்து 27kg 500g சீனி விற்கப்பட்டது எனின், எஞ்சிய சீனியின் நிறை எவ்வளவு?

20.



1. படத்திலுள்ள மொத்த பழங்களின் எண்ணிக்கையை

உரோமன் இலக்கத்தில் எழுதுக.

2. தோடம்பழத்தை விட அதிகமாக காணப்படும் மங்குஸ்

பழங்களின் எண்ணிக்கையை உரோமன் இலக்கத்தில்

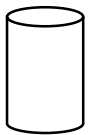
எழுதுக.

21. 706 மாங்காய்களை நான்கு பங்குகளாக பிரிக்கும்போது

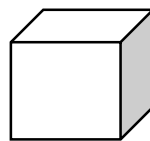
1. ஒரு பங்கில் காணப்படும் மாங்காய்களின் எண்ணிக்கை யாது?

2. பிரித்த பிறகு எஞ்சிய மாங்காய்களின் எண்ணிக்கை யாது?

22. கீழே தரப்பட்டுள்ள திண்மங்களின் பெயர்களை எழுதுக.



.....



.....

23. கீழே தரப்பட்டுள்ள படத்திற்கு சமச்சீர் கோடுகள் வரைக.



24. எண்கோலத்தில் அடுத்துவரும் இலக்கத்தினை எழுதுக.

1) 163, 171, 179,

2) 133, 140,, 154

25. கீழே தரப்பட்டுள்ள வடிவங்களைக் கொண்டு ஆக்கக்கூடிய திண்மங்களின் பெயர்களைக் குறிப்பிடுக.



1.

2.

26. கீழே தரப்பட்டுள்ள விலைப்பட்டியலைப் பூரணப்படுத்துக.

பொருட்கள்	பெற்றுக்கொண்ட அளவு	1kg விலை		பெறுமதி	
		ரூபா	சதம்	ரூபா	சதம்
கரட்	840	00	420	00
பீட்டூட்	200g	400	00
கோவா	250g	600	00
மொத்த பணம்			

2. பொருட்களை வாங்குவதற்காக ரூபாய் 1000 வழங்கினால் மீதியாக கிடைக்கும் பணம் எவ்வளவு?

27. வீட்டிலிருந்து பாதைக்கு உள்ள தூரம் 15m ஆகும். பாதையிலிருந்து வீட்டிற்கு நீரைப் பெற்றுக் கொள்வதற்காக 4m 45cm, 5m 78cm ஆகிய இரண்டு குழாய்த்துண்டுகள் இணைக்கப்பட்டுள்ளன.

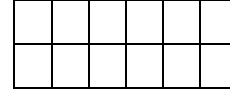
1.இரண்டு குழாய்த்துண்டுகளினதும் மொத்த நீளம் எவ்வளவு?

2.பாதையிலிருந்து நீரைப் பெற்றுக்கொள்வதற்காக மேலதிகமாக தேவைப்படும் குழாயின் நீளம் எவ்வளவு?.....

28.போத்தலொன்றில் 800ml குளிர்பானம் காணப்படுகின்றது. அவ்வாறான இரண்டு போத்தல்களுக்கு 3l 850ml நீர் சேர்த்து பானம் தயாரிக்கப்பட்டது. தயாரிக்கப்பட்ட பானத்தின்

மொத்த அளவை ml இல் எழுதுக.

29. கீழே தரப்பட்டுள்ள படத்தில் $\frac{1}{4}$ நிறந்தீட்டுக.



30 தொடக்கம் 59 வரையிலான வினாக்களில் சரியான விடையைத் தெரிவுசெய்து அதன் கீழ்க்கோடிடுக.

30. குறிப்பிட்ட நேரத்திற்குள் வேலைகளை செய்து முடிக்காத சந்தர்ப்பங்களில் ஏற்படும் விளைவு

1. நேரம் மீதமாகும்
2. வேலைகள் கைவிடப்படும் நிலைமை ஏற்படும்
3. வேலைகள் சிறப்பாக நிறைவுபெறும்

31. பாடசாலையில் காணப்படும் சட்டதிட்டங்களில் ஒன்று

1. காலை 7.30 க்கு பாடசாலை ஆரம்பித்தல்
2. மாணவர்களுக்கு விளையாட வாய்ப்பு வழங்குதல்
3. கலை நிகழ்ச்சிகளை ஏற்பாடு செய்தல்

32. நீரை குறைவாக பருகுவதால் ஏற்படுவது

1. நாக்கு, வாய் வறண்டு போதல்
2. சிறுநீர் கழிக்க இலகுவாதல்
3. சருமம் ஈரழிப்பு தன்மையாக இருத்தல்

33. விழுமியப் பண்புகளில் ஒன்று

1. உணவு உண்ண முன்னர் கைகளைக் கழுவுதல்
2. முதியோருடன் ஒன்றுக்கொன்று எதிர்த்து பேசுதல்
3. முதியோரைக் கண்டவுடன் எழுந்து நிற்பதல்

34. ஆங்கிலேயர் இலங்கையை முழுமையாகக் கைப்பற்றிய ஆண்டு

1. 1948
2. 1815
3. 1942

35. நீர்ச்சுழலியின் வேகத்தை அதிகரிப்பதற்கு செய்யவேண்டியது

1. சுழலியிலுள்ள கரண்டிகளைக் குறைத்தல்
2. சுழலிக்கு வரும் நீரின் அளவைக் குறைத்தல்
3. சுழலியிலுள்ள கரண்டிகளின் அளவைக் கூட்டுதல்

36.பௌத்தர்கள், இந்துக்கள், கிறிஸ்தவர்கள், இஸ்லாமியர்கள் கொண்டாடும் பண்டிகைகள் முறையே

1. பொசொன், தைப்பொங்கல், ரமழான், நத்தார்
2. வெசாக், தைப்பொங்கல், நத்தார், ரமழான்
3. பொசொன், நத்தார், ரமழான், தைப்பொங்கல்

37.திடீர் விபத்துகளின் போது அவசர உதவி வண்டியை (Ambulance) அழைப்பதற்காக தற்போது பாவனையிலுள்ள தொலைபேசி இலக்கம்

1. 1990
2. 119
3. 1980

38. செக்கு பயன்படுத்தப்படுவது

1. எண்ணெய் எடுப்பதற்கு
2. பாரம் இழுப்பதற்கு
3. கருங்கல் உடைப்பதற்கு

39. பலகை ஒன்றில் துளையிடுவதற்காக பயன்படுத்தப்படும் உபகரணம்

1. குறடு
2. துறப்பணம்
3. வாள்

40. இலங்கையின் அரச இலச்சினையை நிர்மாணித்தவர்

1. J.B சேனாநாயக்க
2. S.M செனெவிரத்ன
3. ஆனந்த சமரகோன்

41. பானம் தயாரிப்பதற்காக பயன்படுத்தக்கூடியவை

1. விரலிக்காய், நெல்லி, வெள்ளரிக்காய்
2. பீர்க்கங்காய், இரமுசு, சாத்தாவரி
3. தோடை, வல்லாரை, வில்வம் பூ

42. தேசியக்கொடி, அரச இலச்சினை தயாரிக்கும் குழுவில் செயற்பாட்டாளராக இருந்தவர்

1. T.B.ஜாயா
2. C.W.W கன்னங்கரா
3. ஆனந்த குமாரசுவாமி

43. பற்சில்லு காணப்படும் உபகரணம்

1. துறப்பணம்
2. மூடி திறப்பான்
3. குறடு

44. திருகோணமலை, அம்பாந்தோட்டை ஆகிய கடல்களில் சங்கமிக்கும் ஆறுகள் முறையே

1. களனி ஆறு, வளவை ஆறு
2. களுகங்கை, மகாவலி கங்கை,
3. மகாவலி கங்கை, வளவை கங்கை

45. இலங்கையில் நிர்மாணிக்கப்பட்ட முதலாவது அதிவேகப் பாதை

1. கொழும்பு – கட்டுநாயக்க அதிவேக பாதை
2. கொழும்பு – கடவத்த அதிவேக பாதை
3. தெற்கு - அதிவேக பாதை

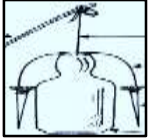
46.கலப்படம் செய்து வர்த்தகப் பொருட்களை விற்பனை செய்வோருக்கு எதிராக புகார் செய்ய வேண்டிய இடம்

1. நுகர்வோர் பாதுகாப்பு அதிகார சபை
2. பொலிஸ் நிலையம்
3. பிரதேச செயலகம்

47.மரச்செதுக்கல், முகமுடி தயாரிப்பில் பிரசித்திபெற்ற இடங்கள் முறையே

1. எம்பக்கே, அம்பலாந்தோட்டை
2. எம்பக்கே, அம்பலாங்கொடை
3. கடுகண்ணாவை, அம்பலாங்கொடை

48.வீட்டுத்தோட்டத்திற்கு வரும் பிராணிகளை விரட்டுவதற்காக பயன்படுத்தப்படும் கருவி. இந்த படத்தின் பெயர்



1. காற்றுக்கிலுக்கி

2. வெருளி

3. நீர்ப்பிசாசு

49.கப்பி பயன்படுத்தப்படும் சந்தர்ப்பம்

1. வாகனத்திற்கு பொருளொன்றை ஏற்றுவதற்கு
2. கல்லொன்றை தள்ளுவதற்கு
3. கிணற்றிலிருந்து நீரைப் பெற்றுக்கொள்வதற்கு

50.மின்குமிழ் ஒளிராத சந்தர்ப்பமாக அமைவது



A

1. A



B

2. B



C

3. C

51.அனைத்தும் உண்ணி கூட்டத்தில் மாத்திரம் அடங்குவது

1. கோழி, நாய், மான்
2. நாய், பூனை, கோழி
3. பூனை, முயல், மான்

52.மரம், செடி, கொடிகளால் பிராணிகளுக்கு கிடைக்கும் நன்மைகள் அதேபோன்று பிராணிகளால் மரம், செடி, கொடிகளுக்கு கிடைக்கும் நன்மைகள் முறையே

1. உணவைப் பெற்றுக்கொள்ளல், மகரந்த சேர்க்கைக்கு உதவுதல்
2. பசளைப் பெற்றுக்கொள்ளல், நிழல் பெற்றுக்கொள்ளல்
3. வித்து பரம்பலடைதல், உணவு பெற்றுக்கொள்ளல்

53. தரப்பட்டுள்ள படத்தில் 1, 2 ஆகிய இலக்கங்கள் காட்டும் மாகாணங்கள் முறையே

1. வடமத்திய மாகாணம், ஊவா மாகாணம்
2. மத்திய மாகாணம், வடமேல் மாகாணம்
3. வட மத்திய மாகாணம், மத்திய மாகாணம்



54. யோகட், தயிர் ஆகிய உணவுப்பொருட்களை வாங்கும்போது அவதானிக்க வேண்டிய விடயம்

1. தரச்சான்றிதழ், உற்பத்தித் திகதி
2. உற்பத்தித் திகதி, காலாவதியாகும் திகதி
3. காலாவதியாகும் திகதி , தரச்சான்றிதழ்

55. வீட்டுத்தோட்ட வேலைகளின் போது மாத்திரம் பயன்படும் உபகரணங்கள் முறையே

1. மண்வெட்டி, முள்ளு, குப்பைவாரி
2. அலவாங்கு, தூக்குக்குண்டு, மண்வெட்டி
3. குப்பைவாரி, தும்புத்தடி, மண்வெட்டி

56. அசுத்தமான நீரைப் பருகுவதனால் ஏற்படக்கூடிய நோய்கள்

1. தடிமன், டெங்கு, காய்ச்சல்
2. வயிற்றோட்டம், செங்கண்மாரி, மஞ்சள் காய்ச்சல்
3. டெங்கு, சுவாச நோய், யானைக்கால்

57. ஒளிசமிக்கை விளக்கில் சிவப்பு நிறம் ஒளிர்வதால் குறிப்பது

1. செல்லவும்
2. ஆயத்தமாகவும்
3. நிறுத்தவும்

58. கொம்போஸ்ட் உரம் தயாரிக்கும் தொட்டிக்குள் போடக்கூடியவை

1. செமன் டின், பழைய பற்தூரிகை
2. தென்னமட்டை, பொலித்தின் பைகள்
3. தென்னமட்டை, இலை குழைகள்

59. ஒருவர் மயக்கமடைந்ததும் உடனடியாகச் செய்யவேண்டியது

1. உடலை நன்கு போர்த்துதல்
2. குளிர் நீர் பருகக் கொடுத்தல்
3. நன்கு காற்றோட்டம் கிடைக்கச் செய்தல்.

60. வறட்சியின் பின்னர் மழை பெய்யத் தொடங்கியது. அதன் பின்னர் இடம் பெற்ற நிகழ்வுகளை அடிப்படையாகக்கொண்டு கருத்துள்ள மூன்று வாக்கியங்கள் எழுதுக. ஒவ்வொரு வாக்கியமும் ஐந்து சொற்களுக்கு குறையாது இருக்கவேண்டும். எழுவாய், பயனிலைத் தொடர்பும் எழுத்துக் கூட்டலும் சரியாக இருத்தல் வேண்டும்.

1.
.....
2.
.....
3.
.....